

## Guía N°17 congruencia 5° básico

Nombre:

**Objetivo de aprendizaje:** Demostrar que comprenden el concepto de congruencia**Instrucciones:**

- Realizar los ejercicios que aparecen en esta guía, si tienes para imprimir, hazlo con la guía si no, realízala anotando solo las respuestas en tu cuaderno.
- Si tienes dudas, comunícate al WhatsApp del curso o de las profesoras.

**RECORDEMOS AÑOS ANTERIORES**

- Dos figuras son **congruentes** si tienen la misma forma y tamaño.




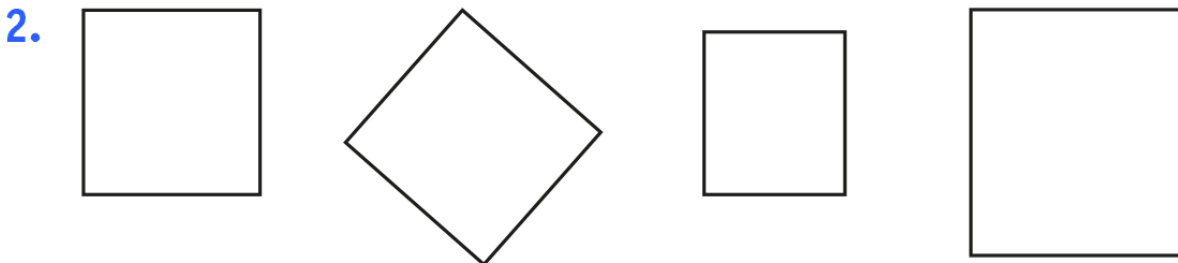
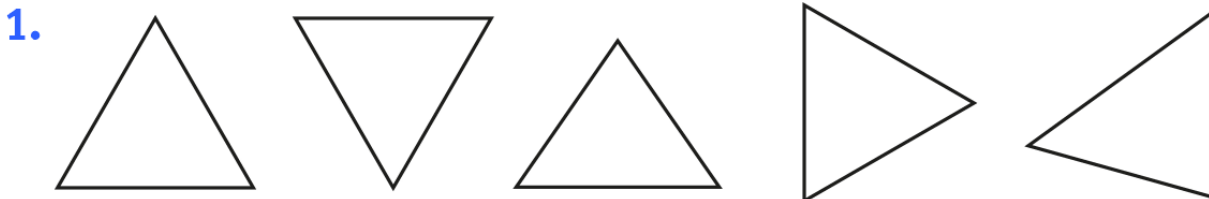
Estas son figuras congruentes  
tienen el mismo tamaño y forma









Estas figuras no son congruentes  
tienen la misma forma pero no su tamaño

**Ahora a trabajar**

1. Pinta del mismo color las figuras que son congruentes.



2. Selecciona la figura que no es congruente y explica por qué no lo es.

		<p>No es congruente porque es mas pequeña</p>
		
		

3. Dibuja en la cuadrícula una figuras **congruente** a las presentadas y explica por qué son congruente.

